

2025年度

一般入試  
A日程  
(1月27日)

世界史

注 意

- 1 試験開始の指示があるまで開いてはいけません。
- 2 問題冊子は15ページあります。
- 3 解答用紙は、1枚です。
- 4 試験開始と同時に解答用紙に座席番号と氏名を記入しなさい。
- 5 解答はすべて解答用紙の指定された欄に記入しなさい。
- 6 解答の記入にあたっては、正確かついねいに記入しなさい。数字や英字等が判読できない場合は、採点対象外とすることがあります。
- 7 問題冊子は持ち帰ってもかまいません。

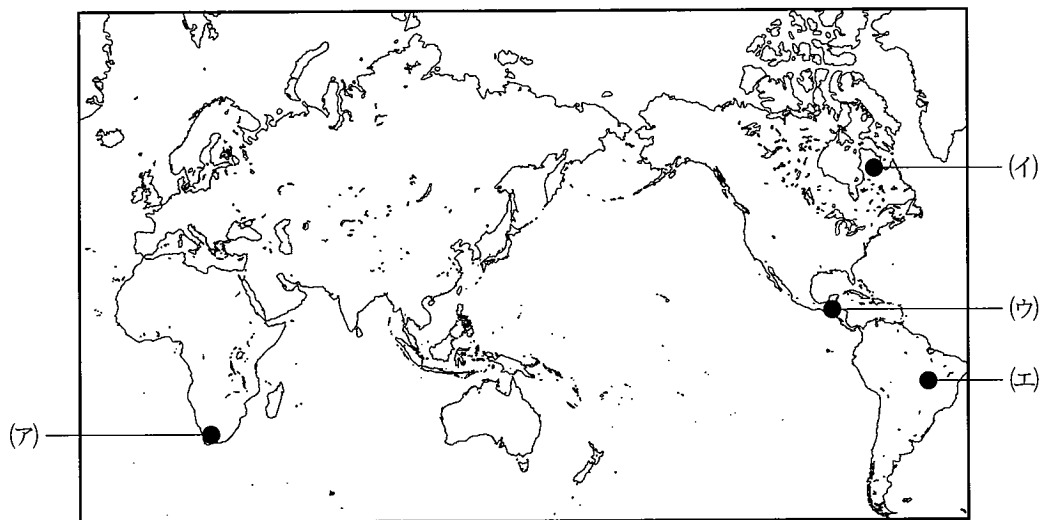
【1】 次の資料A・Bを読んで、問いに答えなさい。

A 環境保護活動のはじまり

近世の初めにヨーロッパは大航海時代といわれる膨張期に入る。まず、15世紀にポルトガルとスペインが海外進出を本格化させた。次に、17世紀にスペインから独立したオランダが商業覇権を握る。さらに、18世紀になると、オランダに対抗するイギリスとフランスが台頭して各地で抗争を繰り広げ、大西洋ではヨーロッパ、、アメリカの間で三角貿易が発展した。ヨーロッパの植民地となった地域では、輸出用の単一作物を栽培する化が始まった。また、当時の博物学者たちは、植民地の森林破壊と野生動物の絶滅に警鐘を鳴らした。こうして芽生えた自然環境保全の動きは、フランス領モーリシャス島、カリブ海の島々、イギリス領インド、そしてヨーロッパへと広がっていく。しかし、<sup>(2)</sup>環境保護運動が欧米で本格化するの(3)は、20世紀後半である。

問1 空欄・に入る適切な語句を解答欄に記入しなさい。

問2 下線部(1)のスペインに関連して、17世紀後半のスペインの植民地の所在地として、次の(ア)～(エ)のなかから適切なものを一つ選び、その記号を解答欄に記入しなさい。



問3 下線部(2)のインドについて、18-19世紀にイギリス支配が進むことによるインドの変化について述べた文として、次の(ア)~(エ)のなかから誤っているものを一つ選び、その記号を解答欄に記入しなさい。

- (ア) 在地領主層は新しい地稅制度で土地所有權を得る代わりに納稅を強いられた。
- (イ) イギリスから機械製の綿布が流入してインドの綿工業が打撃を受けた。
- (ウ) 自國産品を輸出する側からイギリスに原材料を輸出し製品を輸入する側に転落した。
- (エ) イギリス領インド帝國となると、宗教やカーストの分断が緩和された。

問4 下線部(3)の環境保護について、20世紀末から21世紀初めにかけての下記の取り組みのうち、①~③を年代順に並べたものとして、次の(ア)~(エ)のなかから適切なものを一つ選び、その記号を解答欄に記入しなさい。


- ① パリ協定で途上國を含む全ての國に温室効果ガス削減目標を定めることが求められた
- ② リオデジャネイロの國連環境開発會議で持続可能な開発という理念が提起された
- ③ 京都議定書で先進國に温室効果ガス削減目標の達成が義務付けられた

↓


國連サミットで「持続可能な開発目標 (SDGs)」が定められた

- (ア) ② → ① → ③
- (イ) ① → ② → ③
- (ウ) ② → ③ → ①
- (エ) ① → ③ → ②

## B 歴史のなかの動物



猫は古代エジプト人が最初に家畜化したといわれている。前3500年ごろの壁画や彫刻には猫が登場している。はじめは害虫駆除の役割があったが、徐々に神格化され、女神バステトが崇拝された。また、家庭でペットとして飼われるようになり、フランスのルーヴル美術館には猫のミイラが展示されている。



馬は中央ユーラシアの草原地帯の遊牧民によって家畜化された。馬は食用になっていたが、騎馬の習慣が遊牧民の間に広まり、高速での移動や軍用にも用いられるようになった。前7世紀に遊牧民が建設した最初の国家がスキタイである。この騎馬遊牧民は、独特の動物文様を持つ装飾品、馬具、武器で知られる。



牛は狩猟・採集から農耕への移行と共に前7000年頃に西アジアで家畜化された。古代エジプトでは神格化されて雌牛ハトールや雄牛アピスとして崇拝された。はじめは食用となっていたが、牽引と運搬にも用いられるようになった。ヨーロッパでも牛の屠殺や荘園での農耕で使役が行われてきたが、19世紀に動物保護が始まり牛の虐待も禁じられた。

問5 下線部(4)のエジプトについて述べた文として、次の(ア)~(エ)のなかから適切なものを一つ選び、その記号を解答欄に記入しなさい。

- (ア) ファーティマ朝の都アレクサンドリアはヘレニズム文化の中心地であり、ムセイオンが設けられた。
- (イ) アッシリア帝国が崩壊したのち、エジプト、ヒッタイト、新バビロニアの3王国が分立した。
- (ウ) アレクサンドロスはイラン系アケメネス朝に対して東方遠征を行い、エジプトを征服した。
- (エ) アッバース朝時代にムスリム勢力は周囲の広大な地域で征服活動を進め、ビザンツ帝国からエジプトを奪った。

問6 下線部(5)の壁画に関連して、牛・馬・鹿などの野生動物が描かれたラスコー洞窟壁画はいつごろつくられたのか、次の(ア)~(エ)のなかから適切なものを一つ選び、その記号を解答欄に記入しなさい。



図 ラスコー洞窟壁画 (フランス)

- (ア) 20万~10万年前
- (イ) 5万~1万年前
- (ウ) 9000~5000年前
- (エ) 3000~1000年前

問7 下線部(6)のスキタイに関連して、中央ユーラシアの遊牧民の特徴について述べた文として、次の(ア)~(エ)のなかから誤っているものを一つ選び、その記号を解答欄に記入しなさい。

- (ア) 羊・馬・牛などの家畜と共に、季節毎に移住する。
- (イ) 匈奴は冒頓単于のもとで強大になりモンゴル高原を統一した。
- (ウ) スキタイはヨーロッパに侵攻を繰り返してゲルマン人移動のきっかけとなった。
- (エ) 騎馬の機動力と騎射の技術で定住民に対して軍事的に優位に立った。

問8 下線部(7)の荘園での農耕について述べた文として、次の(ア)~(エ)のなかから適切なものを一つ選び、その記号を解答欄に記入しなさい。

- (ア) 重量有輪犁を牛に引かせることで土地を深く耕せるようになった。
- (イ) 春耕地・夏耕地・秋耕地に分けて3年で一巡する三圃制がとられた。
- (ウ) 領主は王権から不輸不入権を得ることで国王への税を農民に納めさせた。
- (エ) 教会には収穫の5分の1を租税として納めていた。

【2】 次の資料A・Bを読んで、問いに答えなさい。

A ベトナム民主共和国独立宣言（1945年9月2日）（一部抜粋）

本年3月9日、は軍の武装解除を行った。植民地主義者たちは逃走するか、投降した。彼らは我が国を「保護」するどころか、逆に五年の間二度我が国をに売り渡したのである。

3月9日以前、ベトミン〔ベトナム独立同盟〕は何度も人に連合してと闘うこと<sup>(1)</sup>をよびかけた。植民地主義者はこれに応じないばかりか、ベトミンに対して容赦のないテロを行った。（中略）

は逃走し、は降伏し、バオダイ帝は退位した。我が人民は百年近くに及ぶ植民地支配の桎梏を打倒して独立のベトナムを樹立した。我が人民はまた、数十世紀に及ぶ君主体制を打倒して民主共和体制を樹立した。<sup>(2)</sup>

出典 歴史学研究会編『世界史史料』10、岩波書店、391-392頁。

問1 空欄・に入る適切な語句を解答欄に記入しなさい。漢字で書くことがふさわしいものは、漢字で記しなさい。

問2 下線部(1)のベトミンについて述べた文として、次の(ア)～(エ)のなかから適切なもの一つを選び、その記号を解答欄に記入しなさい。

- (ア) 中国共産党の支部として結成された。
- (イ) アメリカの支援を受けて結成された。
- (ウ) インドシナ共産党を中心に結成された。
- (エ) 日本の支援を受けて結成された。

問3 下線部(2)の数十世紀に及ぶ君主体制について述べた文として、次の(ア)～(エ)のなかから誤っているものを一つ選び、その記号を解答欄に記入しなさい。

- (ア) 李朝は中国の影響を強く受け、科挙をとり入れた。
- (イ) 陳朝は元軍の攻撃を受けて衰退した。
- (ウ) 黎朝は明軍の攻撃を退けて成立した。
- (エ) 阮朝は宗主国の清に朝貢を行った。

問4 この独立宣言を発表したホー＝チ＝ミンの説明として、次の(ア)～(エ)のなかから誤っているものを一つ選び、その記号を解答欄に記入しなさい。

- (ア) 非暴力・不服従を理念としてかかげた。
- (イ) コミンテルンの一員として活動した。
- (ウ) ベトナム民主共和国の初代大統領となった。
- (エ) ベトナム戦争でアメリカとたたかった。

## B 青磁の展覧会を見学した生徒と教師の会話

生徒：同じ焼き物でも、陶器と磁器ではずいぶん違いがあることがわかりました。

教師：中国では磁器の技術がいちはやく発展したので、世界で珍重されました。

生徒：『源氏物語』のなかにも中国青磁がでてきますね。

教師：<sup>(3)</sup>中国から輸入される唐物は憧れの品で、手に入れられるのは貴族に限られました。

中国から遠く離れたトルコのトプカプ宮殿にも、中国磁器の一大コレクションが残<sub>(4)</sub>されています。

生徒：中国で青磁がつくられるのはいつ頃からですか。

教師：2世紀の□う代にはつくられていたようですが、宋代に技術が最高度に発展し朝鮮にも影響をおよぼしました。

生徒：12世紀ごろに完成した□え青磁ですね。

教師：そうです。中国以外で最初につくられた青磁だといわれています。

生徒：日本ではいつ頃から磁器がつくられるようになったのですか。

教師：日本では豊臣秀吉の朝鮮出兵のさい、朝鮮から職人を日本に連れてきたのがきっかけだといわれています。<sub>(5)</sub>



問5 空欄  ・  に入る語句の組み合わせとして、次の(ア)～(エ)のなかから適切なものを一つ選び、その記号を解答欄に記入しなさい。

- (ア) う：隋      え：高麗
- (イ) う：漢      え：高麗
- (ウ) う：隋      え：朝鮮
- (エ) う：漢      え：朝鮮

問6 下線部(3)の『源氏物語』を紫式部が書いたころの日本と中国に関する説明として、次の(ア)～(エ)のなかから適切なものを一つ選び、その記号を解答欄に記入しなさい。

- (ア) 元から日本へ2度の遠征軍が送られた。
- (イ) 唐の長安にならった都城が奈良に建設された。
- (ウ) 日本は宋との貿易で大量の銅銭を輸入した。
- (エ) 明に大量の日本銀が持ち込まれ、経済に影響をあたえた。

問7 下線部(4)のトプカプ宮殿について述べた文として、次の(ア)～(エ)のなかから適切なものを一つ選び、その記号を解答欄に記入しなさい。

- (ア) グラナダにあるナスル朝の宮殿である。
- (イ) パリにあるバロック様式の宮殿である。
- (ウ) ラサにあるチベットの宗教と政治の中心である。
- (エ) イスタンブルにあるオスマン帝国の宮殿である。

問8 下線部(5)の豊臣秀吉の朝鮮出兵について述べた文として、次の(ア)～(エ)のなかから誤っているものを一つ選び、その記号を解答欄に記入しなさい。

- (ア) 明は朝鮮から援軍をもとめられたが、派遣しなかった。
- (イ) 李舜臣が水軍をひきいて活躍し、日本軍をやぶった。
- (ウ) 朝鮮では干支をつかい壬辰・丁酉倭乱と呼ばれる。
- (エ) 倭寇対策のために開発された亀甲船が用いられた。

【3】 次の資料A・Bを読んで、問いに答えなさい。

A トマス＝モアについて

1499年にはじまったとされるヨーロッパの二人の偉大な人文主義者の友情はよく知られている。イギリスのトマス＝モアとネーデルラント出身の  の友情である。  
 の代表作である『愚神礼賛』は、ロンドンのモア家に滞在中に書かれた。二人の往復書簡は、この時代を照らし出す貴重な資料でもある。モアの名をヨーロッパに知らしめた著作『ユートピア』は、ラテン語で書かれたが、その出版には  も尽力したといわれている。

この『ユートピア』第一巻でモアは、毛織物市場拡大を背景として 当時イギリスで進行していた事態 を風刺し、「羊が人間を食い殺す」と書いた。<sup>(2)</sup>

モアは政治家としてのキャリアも積んでイギリスの大法官となった。しかし、国王  8世の離婚に反対の立場をとり、首長法 を全面的には肯定しなかったことなどから、ロンドン塔に15ヶ月ちかく幽閉され、1535年に斬首刑にされた。<sup>(3)</sup>

問1 空欄  ・  に入る適切な語句を解答欄に記入しなさい。

問2 下線部(1)の ネーデルラント について述べた文として、次の(ア)～(エ)のなかから適切なものを一つ選び、その記号を解答欄に記入しなさい。

- (ア) 広大な領土を所有したことから「太陽の沈まぬ帝国」とたとえられた。
- (イ) 無敵艦隊と呼ばれる遠征艦隊をもち、いちはやく世界就航をなしとげた。
- (ウ) グスタフ＝アドルフがカトリック勢力をおさえて、独立をなしとげた。
- (エ) オラニエ公ウィレムは、独立運動を指導し連邦共和国の初代総督となった。

問3 下線部(2)の 当時イギリスで進行していた事態 について述べた文として、次の(ア)～(エ)のなかから誤っているものを一つ選び、その記号を解答欄に記入しなさい。

- (ア) 領主や地主が、共有地や耕作地を牧羊地として囲った。
- (イ) 土地から追いだされた農民たちの多くは浮浪者となり極貧化した。
- (ウ) 囲い込みの動きは、政府の禁止令にもかかわらず進行した。
- (エ) 産業革命によって毛織物工業が発展し、大量輸出が可能になった。

問4 下線部(3)の首長法について述べた文として、次の(ア)~(エ)のなかから適切なもの一つを選び、その記号を解答欄に記入しなさい。

- (ア) イギリス国王が首長となるイギリス国教会が成立した。
- (イ) カトリックへの復帰が決定され、新教徒が弾圧された。
- (ウ) 首長により、イギリス国教会の祈祷や礼拝の統一が達成された。
- (エ) ピューリタンによる改革の徹底や、教義の純化が定められた。

B 14世紀に詩人ペトラルカが友人に宛てた手紙からの抜粋

- ① 私はキケロを愛していました。ウェルギリウスをも愛していました。かれらの文(4)体と天分が何ものにもまして気に入っていたのです。
- ② ギリシア人のうちでは  とホメロス、私は同様に愛していました。かれらの天分をわがラテン作家たちのそれとくらべるとき、私はしばしば判定に苦しんだものです。
- ③ いまや私の師としたい弁論家は、アンブロシウス、アウグスティヌス、ヒエロニムス(5)、グレゴリウスであり、哲学者はパウロ、詩人はダビデです。
- ④ しかし私は、宗教作家のほうをいっそう好むからといって、世俗作家を捨てるわけではありません。私は宗教作家と世俗作家を同時に愛しう(6)るように思われま  
す。

出典 ペトラルカ著、近藤恒一編訳『ルネサンス書簡集』岩波文庫、1989年、243-245頁。

問5 下線部(4)のキケロについて述べた文として、次の(ア)~(エ)のなかから適切なものを一つ選び、その記号を解答欄に記入しなさい。

- (ア) ユスティニアヌス帝のもとで『ローマ法大全』を完成させた。
- (イ) 雄弁で知られた政治家でローマの共和政を支持し多くの著作も残した。
- (ウ) ローマの五賢帝の一人であり、ギリシア語で『自省録』などを書いた。
- (エ) ペトラルカの同時代に生きた友人であり、『デカメロン』を書いた。

問6 空欄  に入る名前として、次の(ア)~(エ)のなかから適切なものを一つ選び、その記号を解答欄に記入しなさい。

- (ア) タキトゥス
- (イ) リウイウス
- (ウ) プラトン
- (エ) ダンテ

問7 下線部(5)のアウグスティヌスについて述べた文として、次の(ア)~(エ)のなかから適切なものを一つ選び、その記号を解答欄に記入しなさい。

- (ア) ローマの元老院により、尊厳者を意味するこの名を与えられた。
- (イ) キリスト教の最大の教父とされ、『神の国』を著した。
- (ウ) イエスの使徒の一人として、キリスト教の普及に貢献した。
- (エ) 中世最大のスコラ学者であり、『神学大全』を著した。

問8 下線部(6)の宗教作家と世俗作家を同時に愛しうるに関連して、①~④に見られるルネサンス人ペトラルカの姿勢として、次の(ア)~(エ)のなかから適切なものを一つ選び、その記号を解答欄に記入しなさい。

- (ア) キリスト教による魂の救いを手放さずに、ギリシア・ローマの古典を慈しんだ。
- (イ) キリスト教以前のギリシア・ローマの文化を復活させて、世俗的な愛のみを追い求めた。
- (ウ) 古典研究を率先するなかでキリスト教は捨て去ったが、文芸作品は愛し続けた。
- (エ) キリスト教を選ぶか世俗への愛を選ぶか、その判定に苦しみ続けた。

【4】 次の資料A・Bを読んで、問いに答えなさい。

A 沖縄への修学旅行をひかえた弟と姉の会話

弟：修学旅行は沖縄なんだよ。

姉：そう、しっかり勉強していきなさいよ。

弟：首里の  王が琉球王国を興したところからバッチリだよ。琉球王国は明の冊封を受けながら、日本や朝鮮、東南アジア、明との間で盛んに交易したんだ。1609年に薩摩藩の支配下に入って両属関係になっても、私貿易を仲介したんだって。

姉：ずいぶん古いところからやっているのね。江戸幕府に開国を求めた  が首里城にも来たことは知ってる？東回りでインド洋を経て上海まで来て、そこでサスケハナ号に乗り換えて那覇に到着したの。

弟：へえ、よく知っているね。開国した日本は、明治政府が琉球藩を設置して、台湾出兵<sup>(1)</sup>を機に1879年に日本領として沖縄県にしたんだよね。このとき両属関係は絶たれたけど、特権階級の多くは清に逃れたらしいね。

姉：琉球処分ね。清との間の琉球の所属問題は、日清戦争の要因の一つにもなったのよ。

弟：もともと独立国だった琉球が、日本の一部に併合されるっていうのは、住んでいる人にとってはどんな感じだったんだろうね。そこから1945年の沖縄戦<sup>(2)</sup>までつながっていきんだもんね。

姉：そうね、日本の下に置かれた「ヤマト世」のあとは、第二次世界大戦後から1972年までアメリカ統治下の「アメリカ世」<sup>(3)</sup>が続くのよ。その時代は自動車がアメリカと同じ右側通行で、日本本土に来るにもパスポートが必要だったのよ。そしてまた「ヤマト世」へ。沖縄の人たちの話すことをしっかり聞いてきなさいね。

問1 空欄  ・  に入る適切な語句を解答欄に記入しなさい。

問2 下線部(1)の台湾について述べた文として、次の(ア)~(エ)のなかから誤っているものを一つ選び、その記号を解答欄に記入しなさい。

- (ア) 台湾の宗主権を主張するフランスと清の間で清仏戦争が起こり、台湾はフランス領となった。
- (イ) 下関条約によって台湾の支配権を得た日本は、台湾総督府を設けて台湾を植民地として統治した。
- (ウ) 第二次世界大戦後、台湾には中華民国軍が駐留し、大陸での国民党敗北後には中華民国政府が移転した。
- (エ) アメリカ主導の経済的な結びつきの中で、韓国、香港、シンガポールと並んで新興工業経済地域として注目された。

問3 下線部(2)の沖縄戦について述べた文として、次の(ア)~(エ)のなかから適切なものを一つ選び、その記号を解答欄に記入しなさい。

- (ア) 日本海軍が沖縄本島をめぐってアメリカに敗れた海戦で、日本軍の後退がはじまった。
- (イ) アメリカ・イギリス連合軍が島から本土に上陸することで、日本の無条件降伏を引き出した。
- (ウ) アメリカ空軍のB29大型爆撃機300機が夜間無差別爆撃を行い、10万人が亡くなった。
- (エ) 上陸したアメリカ軍と、民間人を巻き込んだ日本軍との間の戦闘で20万の命が失われた。

問4 下線部(3)のアメリカ統治に関連して、サンフランシスコ講和条約後もアメリカの統治下にあった地域として、次の(ア)~(エ)のなかから適切なものを一つ選び、その記号を解答欄に記入しなさい。

- (ア) 齒舞・色丹
- (イ) 対馬
- (ウ) 小笠原
- (エ) 屋久島

B 沖縄復帰記念式典における「沖縄県知事あいさつ」(一部抜粋)

ここに、謹んで沖縄の祖国復帰が実現いたしましたことをみ霊にご報告申しあげますとともに、私ども沖縄県民は、皆さまのご意志を決して無にすることなく、これを沖縄県の再建に生かし、そして、世界の恒久平和の達成に一段と努力することを誓うものであります。

さて、沖縄の復帰の日は、疑いもなくここに到来しました。しかし、沖縄県民のこれまでの要望と心情に照らして復帰の内容をみますと、必ずしも私どもの切なる願望が入れられたとはいえないことも事実であります。そこには、米軍基地の態様の問題をはじめ、内蔵するいろいろな問題があり、これらを持ち込んで復帰したわけであります。したがって、私どもにとって、これからもなおきびしさは続き、新しい困難に直面するかもしれません。

しかし、沖縄県民にとって、復帰は強い願望であり、正しい要求でありました。また、復帰とは、沖縄県民にとってみずからの運命を開拓し、歴史を創造する世紀の大事業でもあります。

昭和47年5月15日 沖縄県知事 屋良朝苗

出典 沖縄県公文書館 [https://www.archives.pref.okinawa.jp/news/that\\_day/4557](https://www.archives.pref.okinawa.jp/news/that_day/4557)

問5 下線部(4)の沖縄の祖国復帰について、沖縄復帰時のアメリカ大統領として、次の(ア)～(エ)のなかから適切なものを一つ選び、その記号を解答欄に記入しなさい。

- (ア) ケネディ大統領
- (イ) ジョンソン大統領
- (ウ) ニクソン大統領
- (エ) レーガン大統領

問6 下線部(5)の世界の恒久平和に関連して、1970年代の世界情勢について述べた文として、次の(ア)～(エ)のなかから誤っているものを一つ選び、その記号を解答欄に記入しなさい。

- (ア) 米中接近を受けて、日本と中華人民共和国の国交正常化が実現し、後に日中平和友好条約が結ばれた。
- (イ) アメリカが撤退したベトナムでは、1975年にサイゴンが陥落し、翌年にはベトナム社会主義共和国が誕生した。
- (ウ) 第4次中東戦争の影響で石油危機が起きたが、終戦後エジプトはイスラエルと和平を結んだ。
- (エ) 米ソの関係改善による緊張緩和（デタント）によって、ソ連のアフガン侵攻が回避されるなど和平が希求された。

問7 下線部(6)の米軍基地について、現在の日本におけるアメリカ軍専用施設全体に占める沖縄の割合として、次の(ア)～(エ)のなかから適切なものを一つ選び、その記号を解答欄に記入しなさい。

- (ア) 約100%
- (イ) 約70%
- (ウ) 約10%
- (エ) 約5%

問8 下線部(7)のみずからの運命を開拓に関連して、復帰後の沖縄について述べた文として、次の(ア)～(エ)のなかから誤っているものを一つ選び、その記号を解答欄に記入しなさい。

- (ア) 沖縄県の経済において、米軍基地への依存度はますます高まっている。
- (イ) 沖縄県の経済において、観光業の重要性がますます高まっている。
- (ウ) 米兵による少女暴行事件を機に、普天間基地返還を求める声が高まった。
- (エ) 日米両政府は名護市辺野古沖に普天間基地の代替施設の建設を目指している。